

== 接弦定理 no.2 ==

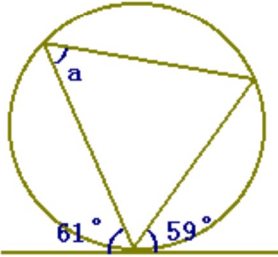
《問題》

次の各図において、a, b, c, d, eの大きさを求めなさい。(各々正しい角度をクリック)

(1) aの大きさ

(一つ選びなさい↓)

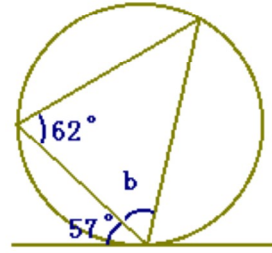
- 59° 61° 62° 63° 64° 65°
66° 67° 68° 69° 70°



(2) bの大きさ

(一つ選びなさい↓)

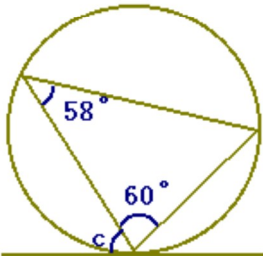
- 59° 61° 62° 63° 64°
65° 66° 67° 68° 69° 70°



(3) cの大きさ

(一つ選びなさい↓)

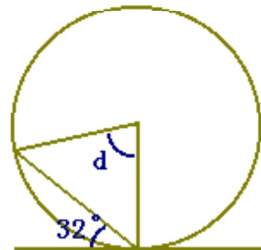
- 59° 61° 62° 63° 64° 65° 66°
67° 68° 69° 70°



(4) dの大きさ

(一つ選びなさい↓)

- 59° 61° 62° 63° 64° 65° 66°
67° 68° 69° 70°



(5) eの大きさ

(一つ選びなさい↓)

- 59° 61° 62° 63° 64° 65° 66°
67° 68° 69° 70°

